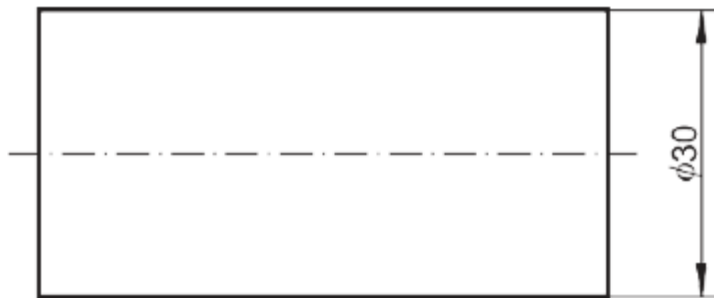


## TEHNIKA IN TEHNOLOGIJA – 7. razred

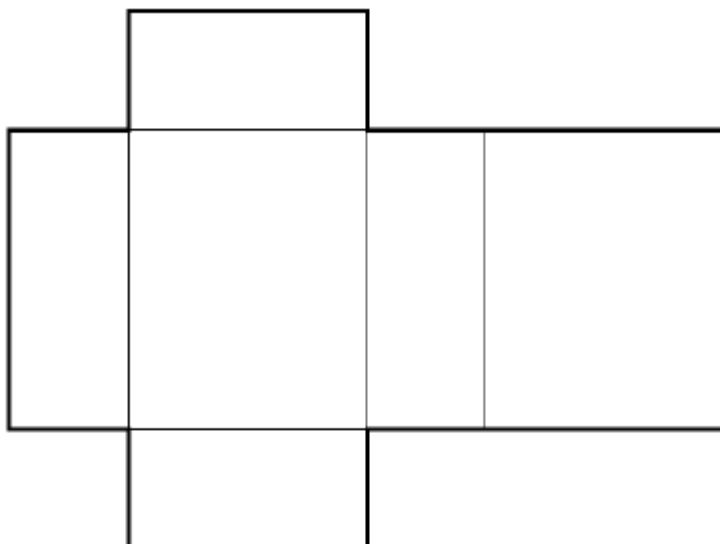
### UČNI LIST – TEHNIŠKO RISANJE

1. Katero telo je na sliki?



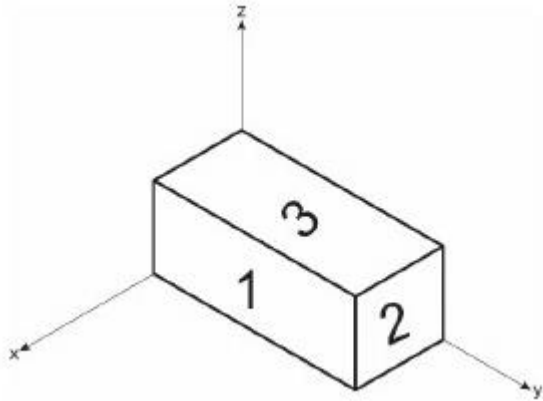
- A Kocka
- B Kvader
- C Stožec
- D valj

2. Dopolni: S spodnjo mrežo bi lahko sestavili \_\_\_\_\_



3.

Na kvadru so številke od 1 do 3. Na črte zapiši številko, ki ustreza posameznemu pogledu.



Naris \_\_\_\_\_

Tloris \_\_\_\_\_

Stranski ris \_\_\_\_\_