

Tema: SEŠTEVANJE IN ODŠTEVANJE DO 20, ŠTEVILA DO 100, seštevanje in odštevanje brez prehoda do 100, besedilne naloge;

CILJI:

Pozna števila do 20, 100.

Bere števila do 20, 100.

Seštevata in odštevata do 20, do 100 brez prehoda.

Bere navodila in reši naloge.

1. Ponovi števila do 20, prebere, zapiše. Ugotovi odnose med števili

Preberi imena števil dvakrat.

1 ENA	2 DVA	3 TRI	4 ŠTIRI	5 PET	6 ŠEST	7 SEDEM	8 OSEM	9 DEVET	10 DESET
11 enajst	12 dvanajst	13 trinajst	14 štirinajst	15 petnajst	16 šestnajst	17 sedemnajst	18 osemnajst	19 devetnajst	20 dvajset

1. Branje navodil in reševanje nalog.

1. Prepiši številke od 1 do 20 v prazne kvadratke.

2. Nariši število s črtami ali zapiši število s številko.

3. Dopolni, zapiši številke, ki manjkajo.

0 ___ 3 ___ 6 ___ 8 9 ___ 11 ___ 13 ___
 15 ___ 17 ___ 19 ___

20 ___ 18 ___ 16 ___ 14 13 ___ 11 10 9 8 ___ 6
 5 ___ 3 2 ___

NARIŠI. SEŠTEJ.

+ znak plus - seštevaš, dodaš, združiš

|||||

||| ||||

14 + 5 = ___

11 + 6 = ___

17 + 0 = ___

13 + 7 = ___

10 + 4 = ___

15 + 5 = ___

18 + 0 = ___

18 + 2 = ___

16 + 1 = ___

12 + 6 = ___

0 + 14 = ___

19 + 1 = ___

NARIŠI. ODŠTEJ.

- znak minus, odštevaš: odvzameš stran, prečrtaš

0 0 0 0 0 0 0 0 0 – preštejemo, koliko likov smo narisali

preštejemo koliko smo prečrtali

9 - 4 = 5

Izračunamo, koliko je ostalo.

~~|||||~~

10 - 7 = ___

||||| – še prečrtaj.

10 - 4 = ___

15 - 3 = ___

16 - 10 = ___

11 - 0 = ___

12 - 2 = ___

18 - 3 = ___

20 - 10 = ___

$16 - 4 = \underline{\quad}$

$13 - 10 = \underline{\quad}$

ŠTEVILA DO 100

IIIIIIIIII IIIIIIIIIII - 2 D

I - 1 E napišemo najprej desetice

20 + 1 = 21 nato dodamo enice

PREBEREMO: enaindvajset

1. PREBERI IN DOPOLNI, zapiši številke.

1 ENA	2 DVA	3 TRI	4 ŠTIRI	5 PET	6 ŠEST	7 SEDEM	8 OSEM	9 DEVET	10 DESET
11 enajst	12 dvanajst	13 trinajst	14 štirinajst	15 petnajst	16 šestnajst	17 sedemnajst	18 osemnajst	19 devetnajst	20 dvajset
21 enaindvajset	22 dvaindvajset	23	24	25	26	27	28	29	30 trideset
31	32		34			37		39	
41		43			46		48		
51				55					60

2. Zapiši števila od 61 do 70.

3. Zapiši števila, ki so večja od 89 in manjša od 97.

4. Napiši števila od 80 do 70. (Štej nazaj.)

5. Obkroži števila, ki so večja od 25 in manjša od 51.

12, 37, 24, 72, 47, 26, 83, 92, 39, 52;

Seštej. (+ združiš)

$10 + 20 = \underline{\quad}$

$10 + 60 = \underline{\quad}$

$70 + 0 = \underline{\quad}$

$20 + 30 = \underline{\quad}$

$50 + 40 = \underline{\quad}$

$50 + 50 = \underline{\quad}$

$20 + 3 = \underline{\quad}$

$30 + 5 = \underline{\quad}$

$60 + 7 = \underline{\quad}$

$42 + 6 = \underline{\quad}$

$97 + 3 = \underline{\quad}$

$23 + 6 = \underline{\quad}$

Odštej. (- odzemi)

$20 - 10 = \underline{\quad}$

$60 - 20 = \underline{\quad}$

$50 - 30 = \underline{\quad}$

$60 - 10 = \underline{\quad}$

$100 - 0 = \underline{\quad}$

$80 - 60 = \underline{\quad}$

$28 - 3 = \underline{\quad}$

$63 - 3 = \underline{\quad}$

$76 - 4 = \underline{\quad}$

$52 - 10 = \underline{\quad}$

Preberi, nariši, napiši račun in odgovor.

1. PREBERI 2 KRAT.

Na prvi polici je bilo 15 knjig. Na drugi polici pa je bilo 5 knjig.

2. OBKROŽI PODATKE.

Koliko je bilo vseh knjig?

3. PREBERI VPRAŠANJE ŠE ENKRAT.

4. NARIŠI.

NARIŠI




RAČUN: _____

ODGOVOR:

Mama je imela v škatli 27 gumbov. 4 gumbje je prišla na srajco. **Koliko gumbov ima še v škatli?**

NARIŠI.




RAČUN: _____

ODGOVOR:

V prvi košari je 20 paprik, v drugi košari pa je 9 paprik. **Koliko paprik je v obeh košarah?**

NARIŠI.




RAČUN: _____

ODGOVOR:

Na parkirišču je bilo 45 avtomobilov, nato so 20 avtomobilov odpeljali. **Koliko avtomobilov je ostalo na parkirišču?**

NARIŠI.



RAČUN: _____

ODGOVOR:

Pripravila Justina Zupančič