

1. PRIPRAVA ZA MATEMATIKO NA DALAVO , 14. 4. 2020

Pripravila Justina Zupančič

Tema: Števila do 20

CILJI:

- Spozna števila do 20.
- Bere števila do 20.
- Zapiše števila do 20.
- Bere navodila in reši naloge

1. Slikovni prikaz in branje

V vsakem kvadratu je zapisano eno število od 1 do 10.

Preberi imena števil dvakrat.

Prepiši številke spodaj v prazne kvadrate.

1	2	3	4	5	6	7	8	9	10
ENA	DVA	TRI	ŠTIRI	PET	ŠEST	SEDEM	OSEM	DEVET	DESET


0 – število NIČ

2. Branje navodil in reševanje nalog.


Dopolni, zapiši števila, ki manjkajo.

1			4			7		9	
---	--	--	---	--	--	---	--	---	--


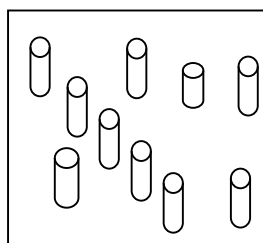


1. Preštej ter v kvadrat zapiši ustrezno številko.
V vsaki vrsti pobarvaj **najmanjše** število.



7

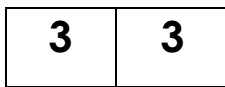
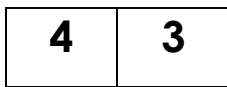





1




2. Pobarvaj **večje** število. Nad številke **nariši število palčk s črticami.**


III IIIII



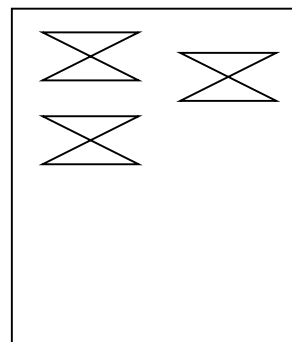
3. **Doriši ali prečrtaj** tako, da bo prav.




5



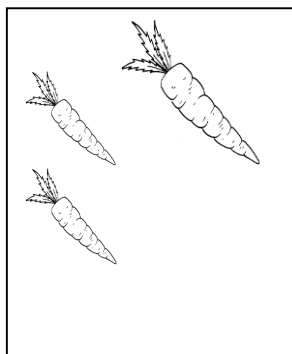
7



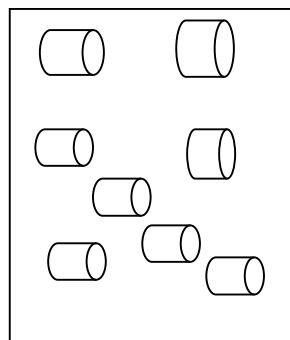
8



3



4



0

4. Zapiši števila od 1 do 10.

5. Zapiši števila nazaj od 10 do 1.

ŠTEVILA DO 20

1. Slikovni prikaz in branje

V vsakem kvadratu je zapisano eno število od 1 do 10.


Preberi imena števil dvakrat.

1 ENA	2 DVA	3 TRI	4 ŠTIRI	5 PET	6 ŠEST	7 SEDEM	8 OSEM	9 DEVET	10 DESET
11 enajst	12 dvanajst	13 trinajst	14 štirinajst	15 petnajst	16 šestnajst	17 sedemnajst	18 osemnajst	19 devetnajst	20 dvajset


2. Branje navodil in reševanje nalog.


1. Prepiši številke od 1 do 20 v prazne kvadrate.

2. Nariši število s črtami ali zapiši število s številko.









3. Dopolni, zapiši številke, ki manjkajo.

1 ___ 3 ___ 6 ___ 8 9 ___
11 12 13 ___ 15 16 17 ___ 19 ___

20 19 18 ___ 16 ___ 14 13 ___ 11
10 9 8 ___ 6 5 ___ 3 2 ___

6. Pobarvaj večje število. Nad številke nariši število palčk s črticami.






UVOD V RAČUNANJE


+ znak plus združuje, da seštejemo

= je enako, zapišemo, koliko je skupaj



$$2 + 3 = \boxed{5}$$

1. Preštej zapiši številke in izračunaj.



$$\underline{\quad} + \underline{\quad} = \boxed{\quad}$$



$$\underline{\quad} + \underline{\quad} = \boxed{\quad}$$

IIIIII IIIIIIIIIIIII

$$\underline{\quad} + \underline{\quad} = \boxed{\quad}$$

|||||||||| ||||||||

$$\underline{\quad} + \underline{\quad} = \boxed{\quad}$$

2. Seštej in zapiši rešitev.

$$2 + 4 = \boxed{\quad} \quad 5 + 1 = \boxed{\quad} \quad 7 + 3 = \boxed{\quad}$$

$$10 + 1 = \boxed{\quad} \quad 6 + 10 = \boxed{\quad} \quad 10 + 0 = \boxed{\quad}$$