

3. DEL:

Pripravila: Vera Gognjavec



**OSNOVNA ŠOLA ZA ODRASLE**

**TURISTIČNA VZGOJA**

**8. RAZRED**

# TURISTIČNA SEZONA

Zapiši, kaj pomeni izraz »turistična sezona«.


Oceni, kako dolgo traja turistična sezona glede na podnebje in vrsto turizma za spodaj izbrane primere iz Slovenije. Rešitev nariši na graf pod fotografijo. Pomagaj si z rešenim primerom.



Oceni glede na število gostov



Oceni glede na število gostov



Oceni glede na število gostov



Oceni glede na število gostov



Oceni glede na število gostov



Oceni glede na število gostov



Odgovori, za katero vrsto turizma je še posebej pomemben čist zrak. Označi kvadratik ob fotografiji in oznako utemelji.

Razloži, na katero vrsto turizma vpliva tanjšanje ozonske plasti in povečevanje t. i. ozonske luknje.

Cilj: Učenci poznajo in razumejo pojem turistična sezona, jo povežejo s podnebjem in razumejo pomen ohranjanja čistega okolja za razvoj turistične dejavnosti.



# PODNEBJE IN VRSTE TURIZMA

Ugotovil si že, da je turistična dejavnost velikokrat zelo odvisna od podnebja in vremena. (Kakšna je razlika med podnebjem in vremenom?)

Za vrsto turistične dejavnosti s pomočjo lestvic ob risbi oceni, kakšna je odvisnost od podnebja in vremena.



neodvisno	zelo odvisno
od podnebja	od vremena



neodvisno	zelo odvisno
od podnebja	od vremena



neodvisno	zelo odvisno
od podnebja	od vremena



neodvisno	zelo odvisno
od podnebja	od vremena

Odgovori, kako trenutne vremenske razmere vplivajo na posamezno vrsto turistične dejavnosti?

---

---

---


---

## PODNEBJE V DOMAČI POKRAJINI

Poišči meteorološke podatke za kraj v domači pokrajini in odgovori na spodnja vprašanja. Iz podatkov o temperaturi zraka po mesecih in količinah padavin nariši klimogram.

Kraj: \_\_\_\_\_

poprečna letna temperatura zraka	
najvišja letna temperatura zraka	
najnižja letna temperatura zraka	
letno število ur sončnega sevanja	
letno število nevihtnih dni	
pogostnost vetra	
letno število dni s snežno odejo	
letno število dni z dežjem	
letna količina padavin	
mesec z največjo količino padavin	
mesec z najmanjšo količino padavin	
4 meseci z največjo količino padavin	



Katere vrste turizma so značilne v tvoji domači pokrajini?

\_\_\_\_\_

Od katerih podnebnih elementov je odvisna turistična dejavnost v domači pokrajini?

\_\_\_\_\_

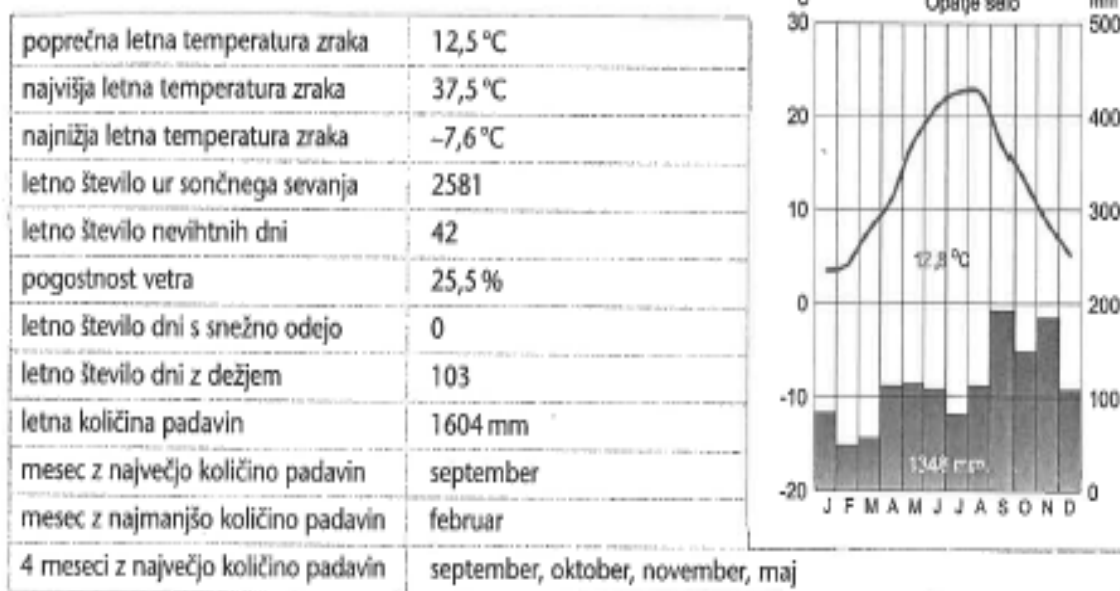
Kako vremenske ujme vplivajo na turistično dejavnost v tvojem domačem kraju?

\_\_\_\_\_

Nalepi fotografijo, ki prikazuje posledice vremenske ujme v domači pokrajini.

# PRIMERNOST PODNEBJA ZA RAZVOJ TURIZMA

Preglej naslednje meteorološke podatke:



(Podatki veljajo za Bilje pri Novi Gorici. Nadmorska višina meteorološke postaje je 50 m.)

Prikazani podatki ti pomagajo pri sklepanju o podnebjju. Ali lahko ugotoviš, kakšno je v Biljah?

Ali lahko trdiš, da je tako podnebje primerno za turistični razvoj?

Utemelji svojo trditev!

Kateri elementi podnebjja so po tvojem mnenju najpomembnejši za razvoj turizma v izbranem kraju? Odgovor utemelji.

## DOMAČA POKRAJINA

### Odgovori!

Katere značilnosti površja prepoznaš v svoji domači pokrajini? **Naštej in opiši jih.**

---

---

---

Katere značilnosti površja in pojavi med njimi so pomembni za turistično dejavnost?

---

---

---

Kako misliš, da turistična dejavnost vpliva na prej opisane pojave in značilnosti površja?

---

---

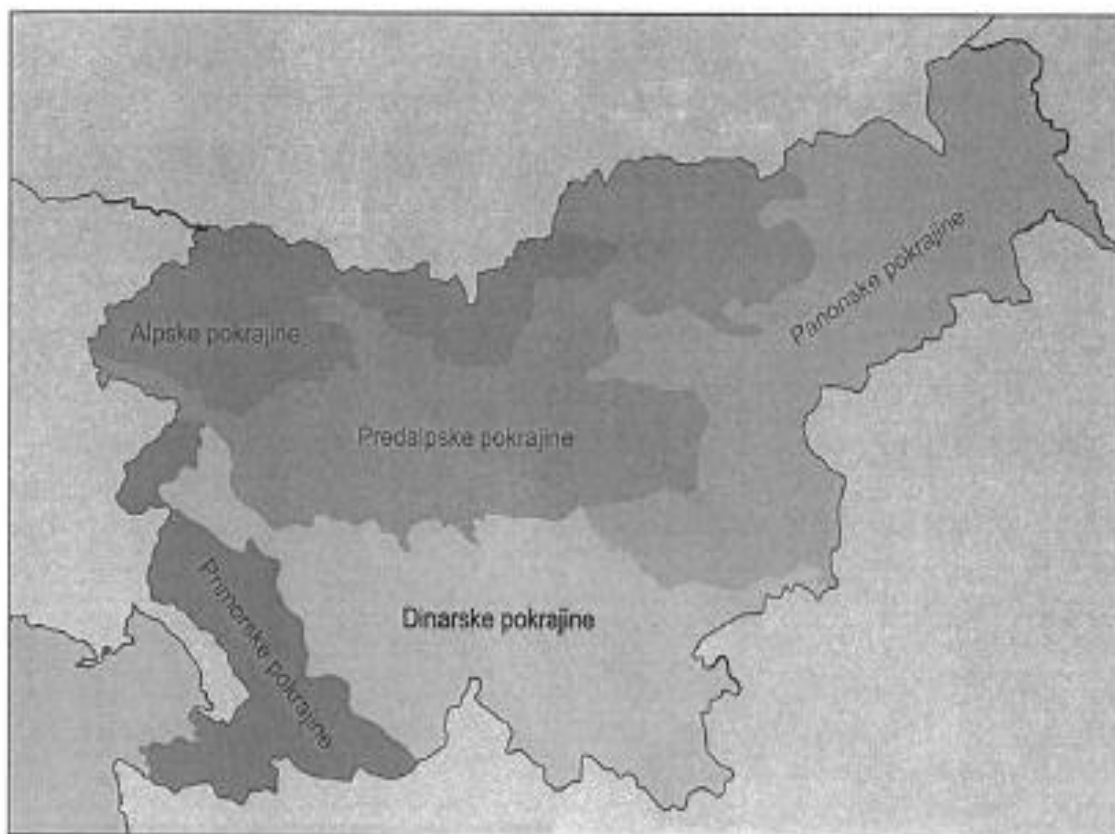
---

**Nalepi fotografijo, ki prikazuje eno značilnost površja domače pokrajine: površinsko obliko ali pojav, ki je pomemben za razvoj turizma!**

## POVRŠJE KOT NARAVNA DANOST

Slovenija je površinsko zelo razgibana. Nikjer na svetu se na tako majhnem območju ne pojavlja toliko različnih površinskih oblik, od visokogorskih, sredogorskih, nižinskih, kraških do obmorskih. Vse so za nas in tuje turiste vedno zanimive.

Poišči fizičnogeografski zemljevid Slovenije in analiziraj njeno površje. V pomoč ti je risba.



Opazuj zemljevid Slovenije in v razpredelnico napiši površinske oblike, ki zaradi svoje lepote ali zanimivosti privlačijo vsakega, ne le turistal

alpski svet	predalpski svet	panonski svet	kraški svet	primorski svet

## ZAVAROVANA OBMOČJA

Zavarovana območja so najpomembnejša območja naravnih danosti, ki imajo neprecenljivo vrednost, in jih zaradi tega zavarujemo z zakonom in različnimi odloki. V Sloveniji imamo trenutno naslednja zavarovana območja: 1 narodni park, 3 regijske parke, 41 krajinskih parkov, 52 naravnih rezervatov in 1217 naravnih spomenikov.

S pomočjo različnih virov in literature za vsako navedeno zavarovano območje **zapiši** en primer.

Narodni park: \_\_\_\_\_

Regijski park: \_\_\_\_\_

Krajinski park: \_\_\_\_\_

Naravni rezervat: \_\_\_\_\_

Naravni spomenik: \_\_\_\_\_

**Izberi** si zavarovano območje v domači pokrajini. Z javnim predstavljanjem te naravne vrednote bo v kraj prišlo še več turistov. **Oceni** dobre in možne negativne posledice takšnega povečevanja števila obiskovalcev.



_____	_____
_____	_____
_____	_____
_____	_____
_____	_____
_____	_____
_____	_____
_____	_____
_____	_____
_____	_____



## NARAVNE OSNOVE ZA RAZVOJ TURIZMA

Poišči slike, ki prikazujejo naravne razmere pokrajine (površje, vode, rastlinstvo, živalstvo), jih nalepi, pod sliko pa napiši, kaj predstavljajo. Fotografiraj lahko tudi sam!

Prilepi sliko površja.

Prilepi sliko živali.

Prilepi sliko vode kot naravne vrednote.

Prilepi sliko, ki predstavlja naravno rastje.

## PET NAŠIH NAJ-ev

Ljudje se najraje odzovemo na presežnike. Pritegnejo našo pozornost in vznemirijo čustva. Ob njih se nam porajajo nove zamisli.

Poišči za svoj kraj pet izvirnih NAJ-ev. V pomoč pri razmišljanju jih je nekaj že naštetih: najsvetlejši, najprimernejši, najkrajši, najboljši, najvplivnejši, najvrtoglavější, najzvitejši ... Svoje predloge **utemelji**.

kraj, ulica, predmet, oseba, dejavnost	naj- ...	utemeljitev