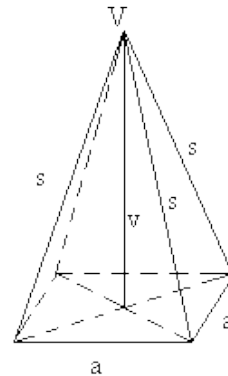
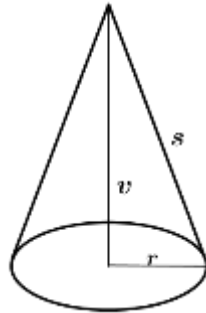
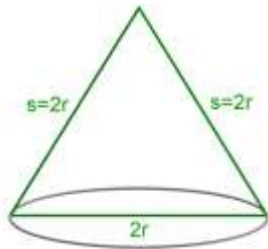


PIRAMIDA, STOŽEC- UTRJEVANJE

1. Pobarvaj osnovni ploskvi, poimenuj geometrijska telesa !



2. Dopolni tabelo ! (glej zgoraj)

	stožec	pravilna 4-strana piramida
Število osnovnih ploskev		
Oblika osnovnih ploskev		
Število stranskih ploskev		
Oblika stranskih ploskev		
Število osnovnih robov		
Število stranskih robov		
Število oglišč		